

**I. تذكير و تمهيد:****A.** العلاقة بين القيمة المطلقة و المجالات:**I.** تذكير: ببعض الحروف: $\alpha, \beta, \varepsilon$ α يقرأ: ألف β يقرأ بيتا ε يقرأ إبسيلوننقصد ب α موجب قطعاً : شعاع موجب قطعاً.نقصد ب $\forall \varepsilon > 0$ مهما يكن ε شعاع موجب قطعاً .نقصد ب $\exists \alpha > 0$ يوجد α شعاع موجب قطعاً .

عندما نكتب عدد موجب قطعاً على الشكل A أو B نقصد بهذه الكتابة عدد موجب كبير جداً مما نتصور.

2. مجال $I(x_0, \alpha)$: الذي مركزه x_0 و شعاعه α :

مثال :

• الكتابة $|x-2| < \alpha$ تعني $x \in]2-\alpha, 2+\alpha[$ أو أيضا $x \in I(2, \alpha)$.• $]2-\alpha, 2+\alpha[$ أو أيضا $I(2, \alpha)$ يسمى المجال الذي مركزه 2 و شعاعه α .بصفة عامة نكتب : $I(x_0, \alpha) =]x_0 - \alpha, x_0 + \alpha[$.**3.** مجال $I^*(x_0, \alpha)$: المنقطفي x_0 و الذي مركزه x_0 و شعاعه α .• الكتابة $0 < |x-2| < \alpha$ تعني $|x-2| \neq 0$ و كذلك $x \in]2-\alpha, 2+\alpha[\setminus \{2\}$ أو أيضا $x \in I^*(2, \alpha)$.• $]2-\alpha, 2+\alpha[$ أو أيضا $I(2, \alpha)$ يسمى المجال الذي مركزه 2 و شعاعه α .بصفة عامة نكتب : $I^*(x_0, \alpha) =]x_0 - \alpha, x_0 + \alpha[\setminus \{x_0\}$.**B.** دالة معرفة بجوار نقطة a . على يمين a . على a .**I.** مفردات:

• f معرفة بجوار a ثم على يمين a ثم على يسار a .

إذا وجد شعاع موجب قطعاً (أي $r > 0$) حيث :**أ-** $I^*(a, r) =]a-r, a+r[\setminus \{a\} =]a-r, a[\cup]a, a+r[\subset D_f$ نقول إن f دالة معرفة بجوار a .**ب-** $]a, a+r[\subset D_f$ نقول إن : f دالة معرفة على يمين a .**ج-** $]a-r, a[\subset D_f ; \exists r > 0$ نقول إن : f دالة معرفة على يسار a .• f معرفة بجوار $+\infty$ أو $-\infty$.

إذا وجد عدد حقيقي b أو c حيث :

أ- $]b, +\infty[\subset D_f$ نقول إن f دالة معرفة بجوار $+\infty$. (يمكن أن يكون المجال مغلق من جهة b)**ب-** $]-\infty, c[\subset D_f$ نقول إن f دالة معرفة بجوار $-\infty$. (يمكن أن يكون المجال مغلق من جهة c)**2.** أمثلة :**a.** مثال 1 : $f(x) = \frac{1}{x}$ لدينا : $D_f = \mathbb{R}^* =]-\infty, 0[\cup]0, +\infty[$.// f معرفة بجوار 0 و على يمين 0 و على يسار 0 و بجوار $+\infty$ و بجوار $-\infty$.**b.** مثال 2 : $f(x) = \sqrt{x^2(x-2)}$ لدينا : $D_f = \{0\} \cup [2, +\infty[$.// f معرفة على يسار 2 . f معرفة بجوار $+\infty$. f معرفة كذلك بجوار 3 .

// f غير معرفة بجوار 0 و غير معرفة على يمين 0 و غير معرفة على يسار 0 .

c. مثال 3 : $f(x) = \sqrt{(x-1)(x+2)}$ لدينا : $D_f =]-\infty, -2] \cup [1, +\infty[$.// f معرفة بجوار $+\infty$ و بجوار $-\infty$ و على يسار -2 و على يمين 1 . f غير معرفة بجوار 1 و غير معرفة على يسار 1

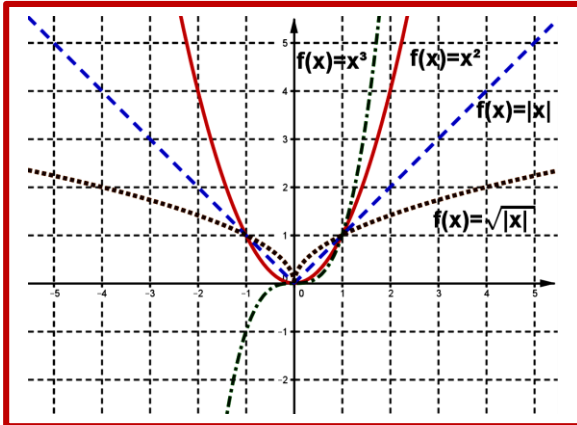


II. النهاية هي 0 لدالة f في نقطة $x_0 = 0$ (أي عندما يؤول x إلى $x_0 = 0$)

A. نهاية الدوال المرجعية في النقطة $x_0 = 0$

1. تعريف:

الدوال التالية : $f(x) = x$ و $f(x) = x^2$ و $f(x) = x^3$ و $f(x) = x^n$ ($n \in \mathbb{N}^*$) و $f(x) = |x|$ و $f(x) = \sqrt{|x|}$ تسمى دوال مرجعية.



تمثيل المباني لهذه الدوال هو:

2. نشاط:

f دالة مرجعية :

1. ماذا تلاحظ عن قيم x التي أعطيت في الجدول ؟

2. أتمم الجدول التالي.

3. ماذا تلاحظ عن قيم f(x) التي حصلت عليها بالنسبة لكل دالة مرجعية ؟

جواب:

1. نلاحظ أن قيم x تقترب من 0 .

2. نتمم الجدول (أنظر الجدول).

3. نلاحظ عن قيم f(x) تقترب من 0.

	→					←		
x →	-10^{-2}	-10^{-3}	-10^{-4}	→	←	10^{-4}	10^{-3}	10^{-2}
f(x)								
f(x) = x				→	←			
f(x) = x ²				→	←			
f(x) = x ³				→	←			
f(x) = x				→	←			
f(x) = √ x				→	←			

3. مفردات :

/// نقول إن x يؤول إلى 0 . ونكتب : $x \rightarrow 0$

/// نقول إن : f(x) تؤول إلى 0 . ونكتب : $f(x) \rightarrow 0$.

/// نلخص ذلك بقولنا أن f(x) تؤول إلى 0 عندما x يؤول إلى 0 .

/// نقول كذلك أن نهاية f(x) هي 0 عندما x تؤول إلى 0 . نرمز لذلك ب : $\lim_{x \rightarrow 0} f(x) = 0$.

4. تعريف:

f دالة عددية معرفة بجوار 0 (أي $(I^*(0, r) =]-r, r[\setminus \{0\} =]-r, 0[\cup]0, r[$)

نقول إن : f(x) تؤول إلى 0 عندما x يؤول إلى 0 لنعني أن : $\forall \varepsilon > 0, \exists \alpha > 0, 0 < |x| < \alpha \Rightarrow |f(x)| < \varepsilon$.

نكتب : $\lim_{x \rightarrow 0} f(x) = 0$ نقراً : نهاية f(x) هي 0 عندما x يؤول إلى 0.



5. أمثلة :

a . مثال 1 : $f(x) = x^2$ نبين أن : $\lim_{x \rightarrow 0} x^2 = 0$

ليكن $\varepsilon > 0$ و $0 < |x|$ (1) لدينا : $|f(x) - 0| = |x^2| = |x|^2 < \varepsilon$ ومنه : $|x| < \sqrt{\varepsilon}$ (2) . من خلال (1) و (2) نحصل على $0 < |x| < \sqrt{\varepsilon}$

وفي هذه الحالة :

نقول لكل $\varepsilon > 0$ يوجد $\alpha = \sqrt{\varepsilon}$ حيث $\alpha = \sqrt{\varepsilon}$ أو أيضا : نقول لكل $\varepsilon > 0$ يكفي أن نأخذ $\alpha = \sqrt{\varepsilon}$

b . مثال 2 : $f(x) = \sqrt{|x|}$ نبين أن : $\lim_{x \rightarrow 0} \sqrt{|x|} = 0$

ليكن $\varepsilon > 0$ و $0 < |x|$ (1) لدينا : $|f(x) - 0| = \sqrt{|x|} < \varepsilon$ ومنه : $|x| < \varepsilon^2$ (2) . من خلال (1) و (2) نحصل على $0 < |x| < \varepsilon^2$

وفي هذه الحالة :

نقول لكل $\varepsilon > 0$ يوجد $\alpha = \varepsilon^2$ حيث $\alpha = \varepsilon^2$ أو أيضا : نقول لكل $\varepsilon > 0$ يكفي أن نأخذ $\alpha = \varepsilon^2$

c . مثال 3 : $f(x) = \frac{x}{x-1}$ نبين أن : $\lim_{x \rightarrow 0} \frac{x}{x-1} = 0$

لدينا : $D_f = \mathbb{R} \setminus \{1\} =]-\infty, 1[\cup]1, +\infty[$ نأخذ : $x \in]-1, 1[\setminus \{0\}$ ومنه : $\begin{cases} -1 < x < 1 \\ x \neq 0 ; x \neq 1 \end{cases}$ إذن : $\begin{cases} -2 < x-1 < 0 \\ x \neq 0 ; x \neq 1 \end{cases}$ إذن :

(1) $\begin{cases} |x-1| < 2 \\ x \neq 0 ; x \neq 1 \end{cases}$ إذن $\begin{cases} -2 < x-1 < 0 < 2 \\ x \neq 0 ; x \neq 1 \end{cases}$

ليكن $\varepsilon > 0$ و $0 < |x|$ (2) لدينا : $|f(x) - 0| = \left| \frac{x}{x-1} \right| = \frac{|x|}{|x-1|} < \varepsilon$ ومنه : $|x| < |x-1|\varepsilon$ (3) . من خلال (1) و (2) و (3)

نحصل على $0 < |x| < |x-1|\varepsilon < 2\varepsilon$

وفي هذه الحالة :

نقول لكل $\varepsilon > 0$ يوجد $\alpha = \inf(1, 2\varepsilon)$ حيث $\alpha = \inf(1, 2\varepsilon)$ أو أيضا : نقول لكل $\varepsilon > 0$ يكفي أن نأخذ $\alpha = \inf(1, 2\varepsilon)$

B . خاصيات : (نهاية الدوال المرجعية في 0) :

I . خاصيات :

a . $\lim_{x \rightarrow 0} \sqrt{|x|} = 0$ و $\lim_{x \rightarrow 0} |x| = 0$ و $(n \in \mathbb{N}^*) \lim_{x \rightarrow 0} x^n = 0 \dots \lim_{x \rightarrow 0} x^3 = 0$ و $\lim_{x \rightarrow 0} x^2 = 0$ و $\lim_{x \rightarrow 0} x = 0$

b . f و g و h دوال عددية معرفة بجوار 0 (أي $]-r, r[\setminus \{0\}$ ضمن D_f و D_g و D_h) .

إذا كان $g(x) \leq f(x) \leq h(x)$ و $\lim_{x \rightarrow 0} g(x) = \lim_{x \rightarrow 0} h(x) = 0$ فإن $\lim_{x \rightarrow 0} f(x) = 0$

2. مثال :

$\lim_{x \rightarrow 0} f(x) = 0$. نبين أن : $f(x) = x^2 \sin x$

لدينا : $-1 \leq \sin x \leq 1$ إذن $-x^2 \leq x^2 \sin x \leq x^2$

نعلم أن : $\lim_{x \rightarrow 0} x^2 = 0$ إذن $\lim_{x \rightarrow 0} x^2 \sin x = 0$

خلاصة : $\lim_{x \rightarrow 0} x^2 \sin x = 0$

III . النهاية l عندما يؤول x إلى 0 :

I . تعريف :



f دالة معرفة بجوار 0 . $D_f \setminus \{0\} \subset]-r, r[$ مع $r > 0$.
نقول إن $f(x)$ تزول إلى العدد الحقيقي l عندما يزول x إلى 0 لنعني أن: $f(x) - l$ تزول إلى 0 عندما يزول x إلى 0 .
أو أيضا: $\forall \varepsilon > 0, \exists \alpha > 0, 0 < |x| < \alpha \Rightarrow |f(x) - l| < \varepsilon$.
نرمز لذلك ب: $\lim_{x \rightarrow 0} f(x) = l$

2. أمثلة:

نعتبر الدالة: $f(x) = x + 3$. نبين أن: $\lim_{x \rightarrow 0} f(x) = 3$.

ليكن: $\varepsilon > 0$ و $0 < |x| < \varepsilon$ لدينا: $|f(x) - l| = |f(x) - 3| = |x + 3 - 3| = |x| < \varepsilon$ ومنه: $|x| < \varepsilon$ (2) من خلال (1) و (2) نحصل على $0 < |x| < \varepsilon$.

وفي هذه الحالة:

نقول لكل $\varepsilon > 0$ يوجد α حيث $\alpha = \varepsilon$ أو أيضا نقول لكل $\varepsilon > 0$ يكفي أن نأخذ $\alpha = \varepsilon$.

خلاصة: $\lim_{x \rightarrow 0} x + 3 = 3$

ملحوظة: إذا اعتبرنا $f(x) = x + c$. بنفس الطريقة نبين أن: $\lim_{x \rightarrow 0} f(x) = c$

IV. نهاية دالة عددية f بجوار x_0 :

A. $\lim_{x \rightarrow x_0} f(x) = l$

1. تعريف:

f دالة معرفة بجوار x_0 . (أي $D_f \setminus \{x_0\} \subset]x_0 - r, x_0 + r[$) مع $r > 0$.
نقول إن $f(x)$ تزول إلى العدد الحقيقي l عندما يزول x إلى x_0 لنعني أن: $f(x) - l$ تزول إلى 0 عندما يزول x إلى x_0 .
أو أيضا: $\forall \varepsilon > 0, \exists \alpha > 0, 0 < |x - x_0| < \alpha \Rightarrow |f(x) - l| < \varepsilon$.
نرمز لذلك ب: $\lim_{x \rightarrow x_0} f(x) = l$

2. أمثلة: نعتبر الدالة: $f(x) = x$.

نبين أن: $\lim_{x \rightarrow -5} f(x) = -5$. لكل $\varepsilon > 0$ نبحث هل يوجد $\alpha > 0$ مع $0 < |x - (-5)| < \alpha$ يعطينا $|f(x) - (-5)| < \varepsilon$

ليكن: $\varepsilon > 0$ و $0 < |x - (-5)| < \varepsilon$ (1)

لدينا: $|f(x) - l| = |f(x) - (-5)| = |x - (-5)| < \varepsilon$ ومنه: $|x - (-5)| < \varepsilon$ (2) من خلال (1) و (2) نحصل على $0 < |x - (-5)| < \varepsilon$.

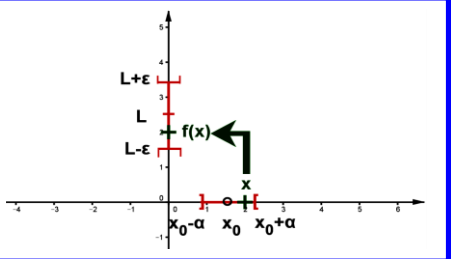
وفي هذه الحالة:

نقول لكل $\varepsilon > 0$ يوجد $\alpha = \varepsilon$. أو أيضا: نقول لكل $\varepsilon > 0$ يكفي أن نأخذ $\alpha = \varepsilon$.

خلاصة: $\lim_{x \rightarrow -5} x = -5$

ملحوظة: إذا اعتبرنا $f(x) = x$. بنفس الطريقة نبين أن: $\lim_{x \rightarrow x_0} f(x) = x_0$ مع $x_0 \in \mathbb{R}$

3. نتيجة: $\lim_{x \rightarrow x_0} x = x_0$ لكل x_0 من \mathbb{R} .





. $r > 0$ مع $(]x_0 - r, x_0 + r[\setminus \{x_0\} \subset D_f$. أي x_0 دوال عديدة معرفة بجوار x_0 .

a . كل دالة f لها نهاية l فهذه النهاية وحيدة.

b . إذا كان $g(x) \leq f(x) \leq h(x)$ و $\lim_{x \rightarrow x_0} g(x) = \lim_{x \rightarrow x_0} h(x) = l$ فإن $\lim_{x \rightarrow x_0} f(x) = l$

c . إذا كان $\lim_{x \rightarrow x_0} f(x) = l$ فإن $\lim_{x \rightarrow x_0} |f(x)| = |l|$

d . إذا كان $|f(x) - l| \leq g(x)$ و $\lim_{x \rightarrow x_0} g(x) = 0$ فإن $\lim_{x \rightarrow x_0} f(x) = l$

5 . أمثلة:

• مثال 1 : أحسب : $\lim_{x \rightarrow -5} |x|$

لدينا : $\lim_{x \rightarrow -5} x = -5$ (حسب المثال السابق) إذن : $\lim_{x \rightarrow -5} |x| = |-5| = 5$

• مثال 2 : بين أن $\lim_{x \rightarrow 0} x^2 \sin x + 7 = 7$

لدينا $-x^2 \leq x^2 \sin x \leq x^2$ إذن : $-x^2 + 7 \leq x^2 \sin x + 7 \leq x^2 + 7$

لدينا : $\lim_{x \rightarrow 0} -x^2 + 7 = 7$ و $\lim_{x \rightarrow 0} x^2 + 7 = 7$ إذن : $\lim_{x \rightarrow 0} x^2 \sin x + 7 = 7$ (حسب الخاصية : b)

خلاصة : $\lim_{x \rightarrow 0} x^2 \sin x + 7 = 7$

• مثال 3 : أحسب : $\lim_{x \rightarrow 0} \frac{x}{2} (\sin x + \cos x)$

نعلم أن : $|\sin x + \cos x| \leq |\sin x| + |\cos x| \leq 1 + 1 = 2$ إذن : $\left| \frac{x}{2} (\sin x + \cos x) \right| \leq \left| \frac{x}{2} \right| \times 2$

ومنه : $\left| \frac{x}{2} (\sin x + \cos x) \right| \leq |x|$ أي $|f(x)| \leq |x|$

لدينا : $\lim_{x \rightarrow 0} |x| = 0$ ومنه : $\lim_{x \rightarrow 0} \frac{x}{2} (\sin x + \cos x) = 0$ حسب الخاصية c

خلاصة : $\lim_{x \rightarrow 0} \frac{x}{2} (\sin x + \cos x) = 0$

B . $\lim_{x \rightarrow x_0} f(x) = \infty$

1 . نشاط: نعتبر الدالة $f(x) = \frac{1}{(x-1)^2}$

مجموعة تعريف f هي : $D_f = \mathbb{R} \setminus \{1\} =]-\infty, 1[\cup]1, +\infty[$

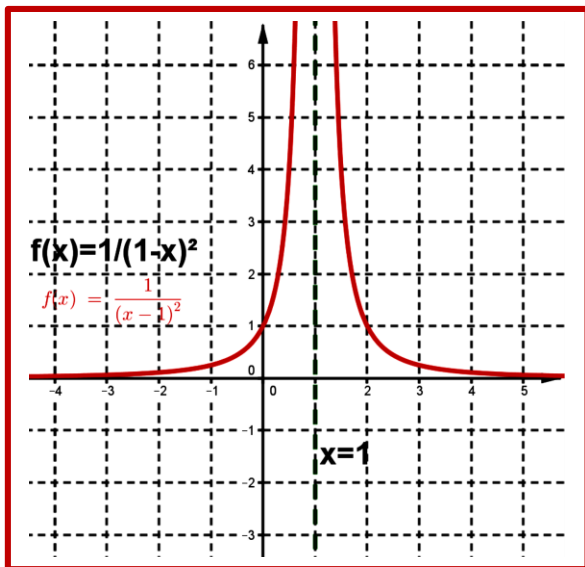
الرسم (3) يمثل منحنى الدالة f

استنتج مبيانيا نهاية الدالة f في 1. أتمم ما يلي : $\lim_{x \rightarrow \dots} f(x) = \dots$

2 . تعاريف:

▪ $\lim_{x \rightarrow x_0} f(x) = +\infty$ يكافئ : $\forall A > 0, \exists \alpha > 0, 0 < |x - x_0| < \alpha \Rightarrow f(x) > A$

▪ $\lim_{x \rightarrow x_0} f(x) = -\infty$ يكافئ : $\forall A > 0, \exists \alpha > 0, 0 < |x - x_0| < \alpha \Rightarrow f(x) < -A$





3. أمثلة : نبين أن : $\lim_{x \rightarrow 0} \frac{1}{x^2} = +\infty$.

لكل $A > 0$ نبحث هل يوجد $\alpha > 0$ يحقق $0 < |x| < \alpha$ يعطينا $f(x) > A$

ليكن: $A > 0$ و $0 < |x|$ (1)

لدينا: (2) ; $f(x) > A \Rightarrow \frac{1}{x^2} > A \Rightarrow x^2 < \frac{1}{A} \Rightarrow |x|^2 < \frac{1}{A} \Rightarrow |x| < \sqrt{\frac{1}{A}}$

حسب العلاقة (1) و (2) نحصل على : $0 < |x| < \sqrt{\frac{1}{A}} = \alpha$.

وفي هذه الحالة :

نقول لكل $A > 0$ يوجد α حيث $\alpha = \sqrt{\frac{1}{A}}$ أو أيضا : نقول لكل $A > 0$ يكفي أن نأخذ $\alpha = \sqrt{\frac{1}{A}}$.

خلاصة : $\lim_{x \rightarrow 0} \frac{1}{x^2} = +\infty$

V. النهاية على اليمين - النهاية على اليسار:

A. النهاية على اليمين في النقطة x_0 - النهاية على اليسار في النقطة x_0 .

1. نشاط :

لنعتبر الدالة $f(x) = \frac{x^2 - 1}{x - 1}$ هي معرفة على $D_f = \mathbb{R} \setminus \{1\} =]-\infty, 1[\cup]1, +\infty[$

- f معرفة على يمين 1 لأن : $]1, 2[$ ضمن D_f . أتمم الجدول رقم (أ). ماذا تلاحظ عندما x يؤول إلى 1 بقيم أكبر من 1 ؟
- f معرفة على يمين 1 لأن : $]0, 1[$ ضمن D_f . أتمم الجدول رقم (ب). ماذا تلاحظ عندما x يؤول إلى 1 بقيم أصغر من 1 ؟

جدول رقم 4	x	0,99	0,999	0,9999	→		←	1,0001	1,001	1,01	
	f(x)										
		الجدول (ب)						الجدول (أ)			

2. مفردات :

- نلاحظ أن: x تؤول إلى 1 بقيم أكبر و $f(x)$ تؤول إلى 2. نعبر عن هذا بقولنا أن نهاية f على يمين 1 هي 2.
نكتب: $\lim_{x \rightarrow 1^+} f(x) = 2$ أو $\lim_{x > 1} f(x) = 2$
- نلاحظ أن: x تؤول إلى 1 بقيم أصغر و $f(x)$ تؤول إلى 2. نعبر عن هذا بقولنا أن نهاية f على يسار 1 هي 2.
نكتب: $\lim_{x \rightarrow 1^-} f(x) = 2$ أو $\lim_{x < 1} f(x) = 2$

B. تعاريف :

1. تعريف 1 :

f دالة عددية معرفة على يمين x_0 . (أي $]x_0, x_0 + r[\subset D_f$, مع $r > 0$).

نقول إن $f(x)$ تؤول إلى العدد الحقيقي l_a عندما x يؤول إلى x_0 على اليمين لنعني أن :

$$\forall \varepsilon > 0, \exists \alpha > 0, 0 < x - x_0 < \alpha \Rightarrow |f(x) - l_a| < \varepsilon$$

نرمز لذلك ب : $\lim_{x \rightarrow x_0^+} f(x) = l_a$ أو أيضا $\lim_{x > x_0} f(x) = l_a$

2. تعريف :

f دالة عددية معرفة على يسار x_0 . (أي $]x_0 - r, x_0[\subset D_f$). مع $r > 0$.
 نقول إن $f(x)$ تتوّل إلى العدد الحقيقي l_g عندما **يؤول** x إلى x_0 **على اليسار** لنعني أن :
 $\forall \varepsilon > 0, \exists \alpha > 0, 0 < x_0 - x < \alpha \Rightarrow |f(x) - l_g| < \varepsilon$
نرمز لذلك ب : $\lim_{x \rightarrow x_0^-} f(x) = l_g$ أو أيضا $\lim_{\substack{x \rightarrow x \\ x < x_0}} f(x) = l_g$

3. أمثلة :

لنعتبر الدالة العددية f المعرفة ب :
 $\lim_{x \rightarrow x} f(x) = 0$ و $\lim_{x \rightarrow x} f(x) = 0$: بين أن : $\begin{cases} f(x) = x, x \geq 0 \\ f(x) = x^2, x < 0 \end{cases}$

4. بعض التعاريف :

- $\lim_{x \rightarrow x_0} f(x) = +\infty$ يكافئ : $\forall A > 0, \exists \alpha > 0, 0 < x - x_0 < \alpha \Rightarrow f(x) > A$
- $\lim_{x \rightarrow x_0} f(x) = -\infty$ يكافئ : $\forall A > 0, \exists \alpha > 0, 0 < x_0 - x < \alpha \Rightarrow f(x) < -A$

C. خاصيات :1. خاصيات :

- $\lim_{x \rightarrow 0^+} \frac{1}{\sqrt{x}} = +\infty$; $\lim_{x \rightarrow 0^+} \sqrt{x} = 0$; $\lim_{x \rightarrow 0^+} \frac{1}{x^n} = +\infty$; $\lim_{x \rightarrow 0^+} \frac{1}{x} = +\infty$
- $(n \in \mathbb{N}^* \text{ حيث زوجي حيث } n)$ $\lim_{x \rightarrow 0^-} \frac{1}{x^n} = +\infty$; $(n \text{ فردي})$ $\lim_{x \rightarrow 0^-} \frac{1}{x^n} = -\infty$; $\lim_{x \rightarrow 0^-} \frac{1}{x} = -\infty$
- كل دالة f لها نهاية l في x_0 يكافئ نهايتها l_d على يمين x_0 تساوي نهايتها l_g على يسار x_0 تساوي l . ($l_d = l_g = l$)
 أو أيضا : $\lim_{x \rightarrow x_0} f(x) = l \Leftrightarrow \lim_{x \rightarrow x_0^+} f(x) = l_d = \lim_{x \rightarrow x_0^-} f(x) = l_g = l$

2. أمثلة :

نعتبر الدالة العددية f المعرفة ب :
 $\begin{cases} f(x) = x^2 \sin x ; x \geq 0 \\ f(x) = x + 3 ; x < 0 \end{cases}$

1. أ - أحسب : $\lim_{x \rightarrow 0^+} f(x)$. ب - أحسب : $\lim_{x \rightarrow 0^-} f(x)$

2. هل الدالة f لها نهاية في 0 ؟

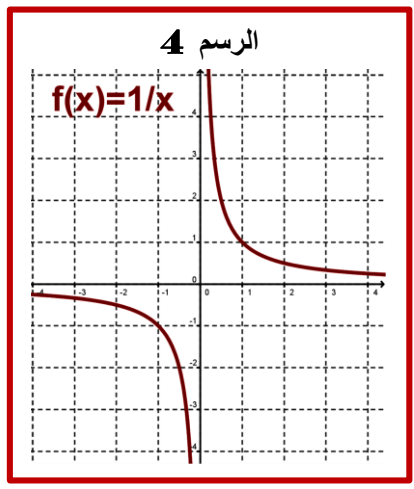
جواب :

1. نحسب :

حسب الأمثلة السابقة لدينا : $\lim_{x \rightarrow 0} x^2 \sin x = 0$ و منه : $\lim_{x \rightarrow 0^+} x^2 \sin x = 0$ (خاصية)

حسب الأمثلة السابقة لدينا : $\lim_{x \rightarrow 0} x + 3 = 3$ و منه : $\lim_{x \rightarrow 0^-} x + 3 = 3$ (خاصية).

2. ندرس هل f لها نهاية في 0 :



بمأن $\lim_{x \rightarrow 0^+} f(x) \neq \lim_{x \rightarrow 0^-} f(x)$ أي $\lim_{x \rightarrow 0^+} x^2 \sin x \neq \lim_{x \rightarrow 0^-} x + 3$

إذن f ليس لها نهاية في 0.

خلاصة: f ليس لها نهاية في 0.

VI. نهاية دالة بجوار $\pm\infty$:

A. $\lim_{x \rightarrow \pm\infty} f(x) = l$

I. نشاط:

الرسم (4) يمثل منحنى الدالة: $f(x) = \frac{1}{x}$

استنتج مبيانيا ما يلي: $\lim_{x \rightarrow +\infty} f(x) = ?$ و $\lim_{x \rightarrow -\infty} f(x) = ?$

2. مفردات ورموز:

- حسب الرسم (4) نقول عندما x يؤول إلى $+\infty$ فإن f(x) تؤول إلى 0 أو أيضا: نهاية f هي 0 عندما x يؤول إلى $+\infty$
- نرمز لذلك ب: $\lim_{x \rightarrow +\infty} f(x) = 0$
- منحنى f يقترب أكثر فأكثر من محور الأفصيل أو أيضا من المستقيم ذي المعادلة $y = 0$ عندما x يؤول إلى $+\infty$.
- لهذا نقول إن (C_f) يقبل مقارب أفقي هو المستقيم الذي معادلته $y = 0$.

3. تعريف 1: $\lim_{x \rightarrow +\infty} f(x) = l$

f دالة معرفة بجوار $+\infty$. (أي $]b, +\infty[\subset D_f$).
نقول إن f(x) تؤول إلى العدد الحقيقي l عندما يؤول x إلى $+\infty$ لنعني أن: $\forall \varepsilon > 0, \exists B > 0, x > B \Rightarrow |f(x) - l| < \varepsilon$
نرمز لذلك ب: $\lim_{x \rightarrow +\infty} f(x) = l$

4. تعريف 2: $\lim_{x \rightarrow -\infty} f(x) = l$

f دالة معرفة بجوار $-\infty$. (أي $]-\infty, b] \subset D_f$).
نقول إن f(x) تؤول إلى العدد الحقيقي l عندما يؤول x إلى $-\infty$ لنعني أن: $\forall \varepsilon > 0, \exists B > 0, x < -B \Rightarrow |f(x) - l| < \varepsilon$
نرمز لذلك ب: $\lim_{x \rightarrow -\infty} f(x) = l$

5. خاصيات تقبل:

أ- $(n \in \mathbb{N}^*); \lim_{x \rightarrow -\infty} \frac{1}{x^n} = 0; \lim_{x \rightarrow +\infty} \frac{1}{x^n} = 0; \lim_{x \rightarrow -\infty} \frac{1}{x} = 0; \lim_{x \rightarrow +\infty} \frac{1}{x} = 0$

ب- f دالة عددية و $l \in \mathbb{R}$

إذا كانت f تقبل نهاية l فهذه النهاية وحيدة.

$\lim_{x \rightarrow \pm\infty} f(x) - l = 0 \Leftrightarrow \lim_{x \rightarrow \pm\infty} f(x) = l$

6. مثال: بين أن: $\lim_{x \rightarrow +\infty} \frac{-3x^2 + x}{x^2} = -3$



لدينا: $\lim_{x \rightarrow +\infty} \frac{-3x^2 + x}{x^2} + 3 = 0$ ومنه: $\lim_{x \rightarrow +\infty} \frac{-3x^2 + x}{x^2} + 3 = \lim_{x \rightarrow +\infty} \frac{-3x^2 + x + 3x^2}{x^2} = \lim_{x \rightarrow +\infty} \frac{x}{x^2} = \lim_{x \rightarrow +\infty} \frac{1}{x} = 0$

حسب الخاصية السابقة: $\lim_{x \rightarrow +\infty} \frac{-3x^2 + x}{x^2} = -3$

$\lim_{x \rightarrow \pm\infty} f(x) = \pm\infty$ **B**

1. نشاط 1:

لنعتبر الدالة العددية: $f(x) = x^2$

1. أتمم الجدول رقم 1 ثم رقم 2.

2. أتمم ما يلي:

أ- بالنسبة للجدول رقم 1:

x يؤول إلى فإن $f(x)$ تؤول إلى.....

عبر عن ذلك باستعمال رمز $\lim_{x \rightarrow}$

ب- بالنسبة للجدول رقم 2:

x يؤول إلى فإن $f(x)$ تؤول إلى..... . عبر عن ذلك باستعمال رمز $\lim_{x \rightarrow}$

2. نشاط 2: (النهاية بطريقة مبيانيا).

أ- الرسم (1) يمثل منحنى الدالة: $f(x) = x^3$

استنتج مبيانيا ما يلي: $\lim_{x \rightarrow +\infty} f(x) = \dots$ ثم $\lim_{x \rightarrow -\infty} f(x) = \dots$

ب- الرسم (2) يمثل منحنى الدالة: $f(x) = \sqrt{x}$

استنتج النهاية التالية: $\lim_{x \rightarrow +\infty} f(x) = \dots$

هل يمكن أن نتكلم عن نهاية f عند $-\infty$ بالنسبة لرسم 2؟

3. تعريف 1: $\lim_{x \rightarrow +\infty} f(x) = +\infty$

f دالة معرفة بجوار $+\infty$. (أي $]b, +\infty[\subset D_f$).

نقول إن $f(x)$ تؤول إلى $+\infty$ عندما يؤول x إلى $+\infty$ لنعني أن: $\forall A > 0, \exists B > 0, x > B \Rightarrow f(x) > A$

نرمز لذلك ب: $\lim_{x \rightarrow +\infty} f(x) = +\infty$

4. تعاريف 2: $\lim_{x \rightarrow +\infty} f(x) = -\infty$ و $\lim_{x \rightarrow -\infty} f(x) = +\infty$ و $\lim_{x \rightarrow -\infty} f(x) = -\infty$

▪ $\lim_{x \rightarrow +\infty} f(x) = -\infty$ يكافئ: $\forall A > 0, \exists B > 0, x > B \Rightarrow f(x) < -A$

▪ $\lim_{x \rightarrow -\infty} f(x) = +\infty$ يكافئ: $\forall A > 0, \exists B > 0, x < -B \Rightarrow f(x) > A$

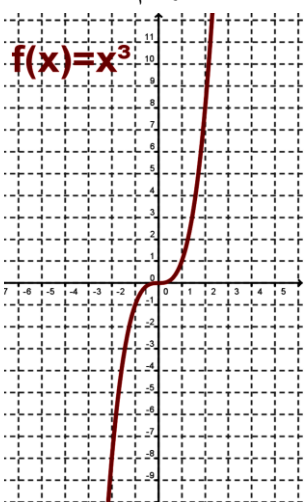
▪ $\lim_{x \rightarrow -\infty} f(x) = -\infty$ يكافئ: $\forall A > 0, \exists B > 0, x < -B \Rightarrow f(x) < -A$

5. خاصيات (تقبل):

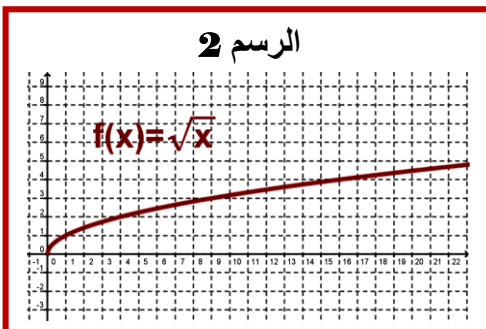
جدول رقم 1	x	10^6	10^9	10^{12}	10^{15}	→
	f(x)					

جدول رقم 2	←	-10^{15}	-10^{12}	-10^9	-10^6	x
						f(x)

الرسم 1



الرسم 2





- $\lim_{x \rightarrow +\infty} \sqrt{x} = +\infty$ و $(n \in \mathbb{N} \setminus \{0\} = \mathbb{N}^*) \lim_{x \rightarrow +\infty} x^n = +\infty \dots \lim_{x \rightarrow +\infty} x^3 = +\infty$ و $\lim_{x \rightarrow +\infty} x^2 = +\infty$ و $\lim_{x \rightarrow +\infty} x = +\infty$
- $\lim_{x \rightarrow -\infty} x = -\infty$ و $\lim_{x \rightarrow -\infty} x^2 = +\infty$ و $\lim_{x \rightarrow -\infty} x^3 = -\infty$ و $\lim_{x \rightarrow +\infty} x^n = +\infty$ (n زوجي) ; $\lim_{x \rightarrow -\infty} x^n = -\infty$ (n فردي)

VII. العمليات على النهايات: (بواسطة جدول مع $x \rightarrow ?$ الخاصية صحيحة بتعويض ؟ ب x_0 أو x_0^+ أو x_0^- أو $+\infty$ أو $-\infty$)

f / g	1 / g	f × g	f + g	g	f
$\lim_{x \rightarrow ?} \left(\frac{f}{g} \right) (x)$	$\lim_{x \rightarrow ?} \left(\frac{1}{g} \right) (x)$	$\lim_{x \rightarrow ?} (f \times g)(x)$	$\lim_{x \rightarrow ?} (f + g)(x)$	$\lim_{x \rightarrow ?} g(x)$	$\lim_{x \rightarrow ?} f(x)$
$(l' \neq 0) ; l / l'$	$(l' \neq 0) ; 1 / l'$	$l \times l'$	$l + l'$	l'	l
∞ مع وضع إشارة l	$+\infty$	0	l	0^+	$(l \neq 0)l$
∞ مع وضع عكس إشارة l	$-\infty$	0	l	0^-	$(l \neq 0)l$
0	0	∞ مع وضع إشارة l	$+\infty$	$+\infty$	$(l \neq 0)l$
0	0	∞ مع وضع عكس إشارة l	$-\infty$	$-\infty$	$(l \neq 0)l$
شكل غير محدد	$\pm\infty$ إذا كان 0^\pm	0	0	0	0
0	0	شكل غير محدد	$+\infty$	$+\infty$	0
0	0	شكل غير محدد	$-\infty$	$-\infty$	0
∞ مع وضع إشارة l'	$(l' \neq 0) ; \frac{1}{l'}$	∞ مع وضع إشارة l'	$+\infty$	$l' \neq 0 ; l'$	$+\infty$
∞ مع وضع عكس إشارة l'	$(l' \neq 0) ; \frac{1}{l'}$	∞ مع وضع عكس إشارة l'	$-\infty$	$l' \neq 0 ; l'$	$-\infty$
شكل غير محدد	0	$+\infty$	$+\infty$	$+\infty$	$+\infty$
شكل غير محدد	0	$-\infty$	شكل غير محدد	$-\infty$	$+\infty$
شكل غير محدد	0	$-\infty$	شكل غير محدد	$+\infty$	$-\infty$
شكل غير محدد	0	$+\infty$	$-\infty$	$-\infty$	$-\infty$

الأشكال الغير المحددة هي: نوع 1 : $(+\infty) + (-\infty) ; (-\infty) + (+\infty) ; 0 \times (\pm\infty) ; \frac{0}{0} ; \frac{\pm\infty}{\pm\infty}$. نوع 2 : $1^\infty ; 0^0 ; \infty^0$

VIII. نهاية الدوال: 1- الحدودية 2- الجذرية 3- من نوع $g(x) = \sqrt{f(x)}$ 4- نهاية دالة مثلثية:

A. نهاية دالة حدودية - نهاية دالة جذرية:

1. خاصية:

$$Q(x) = \sum_{i=0}^{i=m} b_i x^i = b_0 + b_1 x + b_2 x^2 + \dots + b_n x^n \text{ و } P(x) = \sum_{i=0}^{i=n} a_i x^i = a_0 + a_1 x + a_2 x^2 + \dots + a_n x^n$$

$$\lim_{x \rightarrow \pm\infty} P(x) = \lim_{x \rightarrow \pm\infty} a_n x^n \quad (2) \quad \lim_{x \rightarrow x_0} P(x) = P(x_0) \quad (1) \text{ لدينا}$$

$$\lim_{x \rightarrow \pm\infty} \frac{P(x)}{Q(x)} = \lim_{x \rightarrow \pm\infty} \frac{a_n x^n}{b_m x^m} \quad (4) \quad \lim_{x \rightarrow x_0} \frac{P(x)}{Q(x)} = \frac{P(x_0)}{Q(x_0)} \quad (3) \text{ لدينا مع } Q(x_0) \neq 0$$

2. أمثلة:

أ- مثال خاص بالدوال الحدودية:



$$1. \lim_{x \rightarrow 1} \frac{1}{3}x^2 + 2x + 6 = \frac{1}{3} \times 1^2 + 2 \times \frac{1}{3} + 6 = 7 ; \lim_{x \rightarrow 1} \frac{1}{3}x^2 = \frac{1}{3} \times 1^2 = \frac{1}{3} ; \lim_{x \rightarrow 1} 2x + 6 = 2 \times 3 + 6 = 12$$

$$2. \lim_{x \rightarrow -\infty} \frac{1}{5}x^3 + 2x + 6 = \lim_{x \rightarrow -\infty} \frac{1}{5}x^3 = -\infty ; \lim_{x \rightarrow -\infty} \frac{1}{3}x^2 = +\infty ; \lim_{x \rightarrow \pm\infty} 2x + 6 = \lim_{x \rightarrow \pm\infty} 2x = +\infty$$

$$. \lim_{x \rightarrow +\infty} 18x^4 - 3x^3 + 2x - 5 = \lim_{x \rightarrow +\infty} 18x^4 = +\infty$$

ب- مثال خاص بالدوال الجذرية :

$$1. \lim_{x \rightarrow 1} \frac{2x + 6}{-3x + 2} = \frac{2 \times 3 + 6}{-3 \times 1 + 2} = \frac{12}{-1} = -12$$

$$2. \lim_{x \rightarrow +\infty} \frac{18x^4 - 3x^3 + 2x - 5}{3 - x} = \lim_{x \rightarrow +\infty} \frac{18x^4}{-x} = \lim_{x \rightarrow +\infty} -18x^3 = -\infty$$

$$3. \lim_{x \rightarrow -\infty} \frac{18x^4 - 3x^3 + 2x - 5}{3 - x^4} = \lim_{x \rightarrow -\infty} \frac{18x^4}{-x^4} = \lim_{x \rightarrow -\infty} -18 = -18$$

$$4. \lim_{x \rightarrow -\infty} \frac{18x^4 - 3x^3 + 2x - 5}{3 - x^7} = \lim_{x \rightarrow -\infty} \frac{18x^4}{-x^7} = \lim_{x \rightarrow -\infty} -\frac{18}{x^3} = 0$$

B. نهاية دالة من نوع $g(x) = \sqrt{f(x)}$

1. خاصية :

f دالة عددية معرفة و موجبة على D_f و $l \geq 0$.

- إذا كان $\lim_{x \rightarrow \pm\infty} f(x) = l$ (أو $x \rightarrow x_0$ أو $x \rightarrow x_0^\pm$) و $l \geq 0$ فإن $\lim_{x \rightarrow \pm\infty} \sqrt{f(x)} = \sqrt{l}$ (أو $x \rightarrow x_0$ أو $x \rightarrow x_0^\pm$).
- إذا كان $\lim_{x \rightarrow \pm\infty} f(x) = +\infty$ (أو $x \rightarrow x_0$ أو $x \rightarrow x_0^\pm$) فإن $\lim_{x \rightarrow \pm\infty} \sqrt{f(x)} = +\infty$ (أو $x \rightarrow x_0$ أو $x \rightarrow x_0^\pm$).

2. مثال:

$$1. \lim_{x \rightarrow -3} \sqrt{x^2 - 1} = \sqrt{(-3)^2 - 1} = \sqrt{8} . \lim_{x \rightarrow 1} \sqrt{x^2 + 3} = \sqrt{1^2 + 3} = 2$$

$$2. \lim_{x \rightarrow +\infty} x^2 + x = \lim_{x \rightarrow +\infty} x^2 = +\infty : \text{لأن } \lim_{x \rightarrow +\infty} \sqrt{x^2 + x} = +\infty$$

$$3. \lim_{x \rightarrow -\infty} x^2 + x = \lim_{x \rightarrow -\infty} x^2 = +\infty : \text{لأن } \lim_{x \rightarrow -\infty} \sqrt{x^2 + x} = +\infty$$

$$4. \lim_{x \rightarrow -\infty} \frac{2x - 4}{3x + 6} = \lim_{x \rightarrow -\infty} \frac{2x}{3x} = \frac{2}{3} : \text{لأن } \lim_{x \rightarrow -\infty} \sqrt{\frac{2x - 4}{3x + 6}} = \sqrt{\frac{2}{3}}$$

C. نهايات الدوال المتثلثة :

1. خاصيات :

$$\lim_{x \rightarrow 0} \tan x = 0 \quad \text{و} \quad \lim_{x \rightarrow 0} \sin x = 0 \quad \text{و} \quad \lim_{x \rightarrow 0} \cos x = 1$$

$$\lim_{x \rightarrow x_0} \tan x = \tan x_0 \quad \text{و} \quad \lim_{x \rightarrow x_0} \sin x = \sin x_0 \quad \text{و} \quad \lim_{x \rightarrow x_0} \cos x = \cos x_0$$

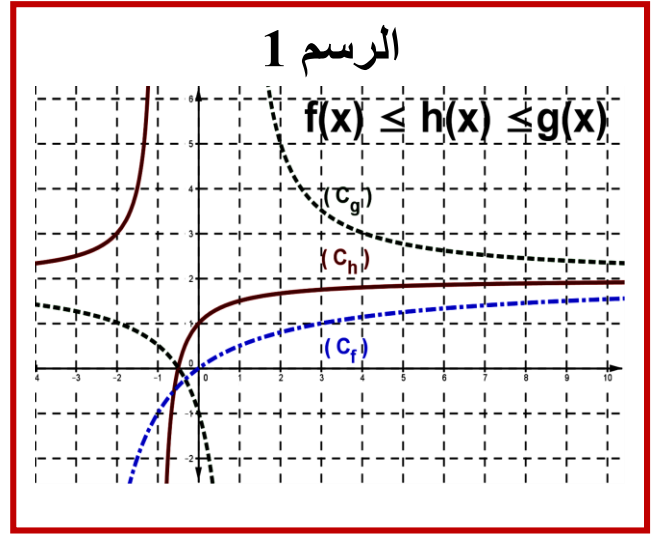
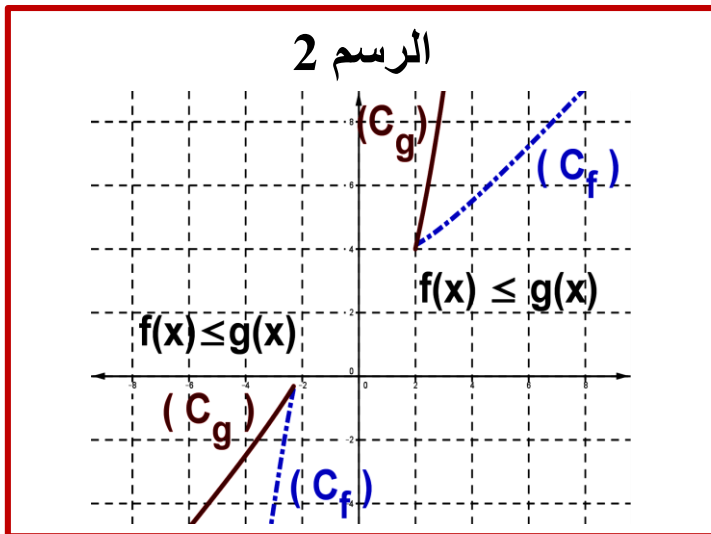
$$\lim_{x \rightarrow 0} \frac{1 - \cos x}{x} = 0 \quad \text{و} \quad \lim_{x \rightarrow 0} \frac{1 - \cos x}{x^2} = \frac{1}{2} \quad \text{و} \quad \lim_{x \rightarrow 0} \frac{\tan x}{x} = 1 \quad \text{و} \quad \lim_{x \rightarrow 0} \frac{\sin x}{x} = 1$$

$$. a \in \mathbb{R}^* \text{ مع } \lim_{x \rightarrow 0} \frac{\tan(ax)}{x} = a \quad \text{و} \quad \lim_{x \rightarrow 0} \frac{\sin(ax)}{x} = a$$



IX. النهايات والترتيب :

1. نشاط :



لدينا :

(1) $\lim_{x \rightarrow +\infty} g(x) = 2$ و $\lim_{x \rightarrow +\infty} f(x) = 2$. استنتج مبيانيا $\lim_{x \rightarrow +\infty} h(x)$ (الرسم 1)

(2) نعم : $\lim_{x \rightarrow +\infty} f(x) = +\infty$. استنتج مبيانيا $\lim_{x \rightarrow +\infty} g(x)$ (الرسم 2)

(3) نعم أن : $\lim_{x \rightarrow -\infty} f(x) = -\infty$. استنتج مبيانيا $\lim_{x \rightarrow -\infty} g(x)$ (الرسم 2)

2. خاصيات :

f و g و h دوال عددية حيث :

- إذا كان $f(x) \leq g(x)$ و $\lim_{x \rightarrow ?} f(x) = +\infty$ فإن $\lim_{x \rightarrow ?} g(x) = +\infty$.
- إذا كان $f(x) \leq g(x)$ و $\lim_{x \rightarrow ?} g(x) = -\infty$ فإن $\lim_{x \rightarrow ?} f(x) = -\infty$.
- إذا كان $f(x) \leq h(x) \leq g(x)$ و $\lim_{x \rightarrow ?} f(x) = \lim_{x \rightarrow ?} g(x) = \lim_{x \rightarrow ?} h(x) = l$ فإن $\lim_{x \rightarrow ?} h(x) = l$.